



evropský  
sociální  
fond v ČR



EVROPSKÁ UNIE



MINISTERSTVO ŠKOLSTVÍ,  
MLÁDEŽE A TĚLOVÝCHOVY



OP Vzdělávání  
pro konkurenceschopnost

INVESTICE DO ROZVOJE VZDĚLÁVÁNÍ

## Digitální učební materiál

Projekt: Digitální učební materiály ve škole, registrační číslo projektu CZ.1.07/1.5.00/34.0527

Příjemce: Střední zdravotnická škola a Vyšší odborná škola zdravotnická, Husova 3, 371 60  
České Budějovice

---

**Název materiálu:** Krvácení – test

**Autor materiálu:** Mgr. Hana Rybáková

**Datum (období) vytvoření:** 15. 10. 2012

**Zařazení materiálu:**

Šablona: Inovace a zkvalitnění výuky prostřednictvím ICT (III/2)

Tematická oblast: **První pomoc**

Sada: PP1

Číslo DUM: 16

Předmět, ročník: První pomoc, 2. ročník

**Ověření materiálu ve výuce:**

Datum ověření: 21. 2. 2013

Ověřující učitel: Mgr. Sedláčková

Třída: MSR 2

**Popis způsobu použití materiálu ve výuce:**

Materiál obsahuje test určený pro samostatné zpracování žáky a vyhodnocení testu pro učitele. Test lze použít jako materiál k prověření pochopení a osvojení učiva daného tématu. Odpovědi v testech nabízejí jednu nebo více správných odpovědí a jsou bodově ohodnoceny. Součástí vyhodnocení testu je doporučená škála bodového hodnocení výsledku testu.

**Tento výukový materiál je spolufinancován Evropským sociálním fondem a státním rozpočtem České republiky.**

## KRVÁCENÍ

1. Napište, jak dělíme krvácení podle typu postižení cévy. Stručně charakterizujte jednotlivé typy:

.....

.....

.....

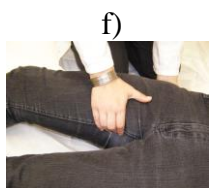
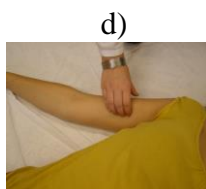
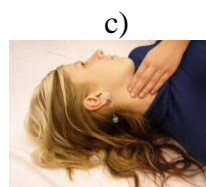
2. Smíšené krvácení je krvácení: (vyberte správné tvrzení)

- a) z poraněných žil a tepen. (ano – ne)  
b) z poraněných velkých a malých tepen. (ano – ne)

3. Uveďte 3 způsoby zástavy tepenného krvácení:

.....

4. Pojmenujte jednotlivé tlakové body (stačí uvést český název):



.....

.....

5. Vyjmenujte alespoň 3 situace, kdy k zástavě tepenného krvácení použijete zaškrcovadlo:

.....

6. Napište alespoň 3 pomůcky, které byste použili místo Martinova obinadla při zástavě krvácení:

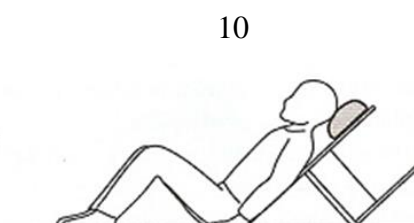
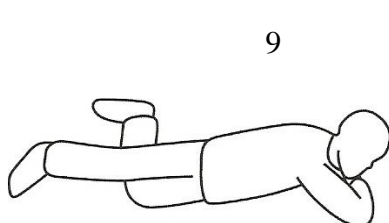
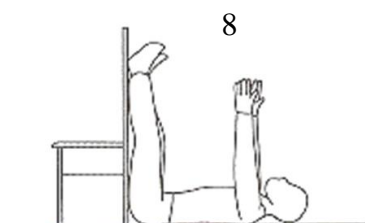
.....

7. V případě velké ztráty krve uložíte postiženého při vědomí do polohy:

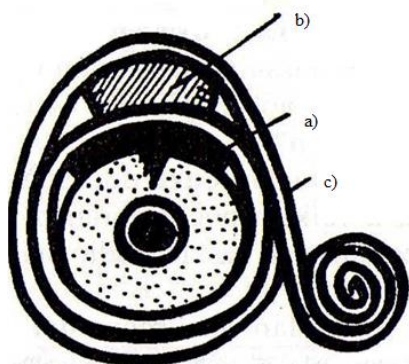
a)

b)

c)



8. Vyjmenujte vrstvy tlakového obvazu:



11

.....

9. Můžete do tlakového obvazu použít mince, nůž, kámen, dřevo?

a) Ano.

b) Ne.

10. Při krvácení z nosu poskytneme první pomoc: (uved'te správné odpovědi)

a) záklonem hlavy

b) předklonem hlavy

c) přiložením teplého obkladu na nos

d) vypláchnutím nosu borovou vodou

e) přiložením prakového obkladu na nos

f) přiložením studeného obkladu na nos

11. Jak poskytneme první pomoc u postiženého v bezvědomí, který krvácí z ucha?
- a) S postiženým nehýbáme, zakryjeme postižené ucho.
  - b) Na ucho přiložíme odsávací obvaz a postiženého uložíme do stabilizované polohy na boku postižené strany.
  - c) Po ošetření ucha uložíme do stabilizované polohy na boku zdravého ucha.
12. Do jaké polohy uložíte postiženého při zvracení krve, pokud upadl do bezvědomí? Napište název polohy:

.....

Vyhodnocení testu je možné si vyžádat na e-mailové adrese autora.

**OBRÁZKY:**

1, 2, 3, 4, 5, 6, 7 – vlastní fotografie

8, 9, 10 – BERÁNKOVÁ, Monika, FLEKOVÁ, Anna, HOLZHAUSEROVÁ, Blanka. Učebnice pro střední zdravotnické školy: První pomoc. 1.vyd. Praha: Informatorium, spol. s.r.o., 2002. ISBN 80-86073-99-8 str. 48, 46, 50

11 – První pomoc: tlakový obvaz . [online]. 27.10.2009 [cit. 2012-08-13].

Dostupný na WWW: <http://prvnipomoc.blog.cz/0910/tlakovy-obvaz>